



PERÚ

Ministerio
de Educación

Dirección Regional de Educación de
Lima Metropolitana

EVALUACIÓN DIAGNÓSTICA

CUADERNILLO N.º 1



1 3
9 1/2
8 6
5 X
^ 7
%

MATEMÁTICA Primer Grado

Primaria

Institución Educativa:

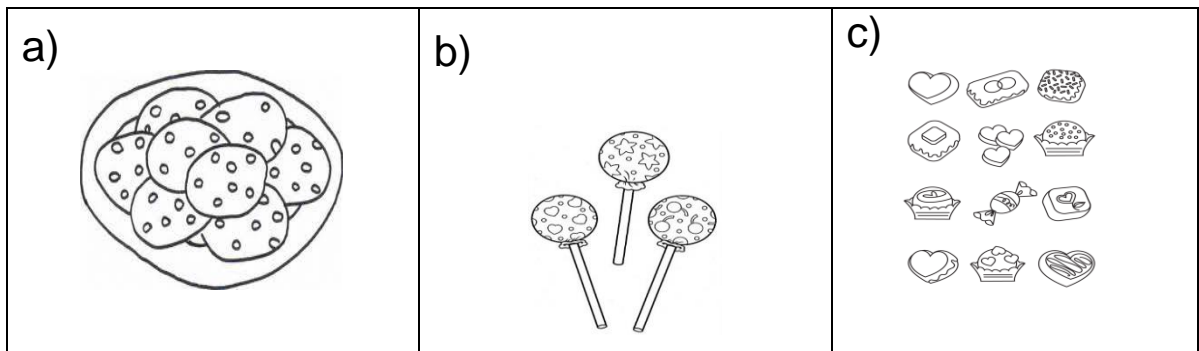
Nombres y apellidos:

Grado y sección :

Fecha:

Hoy es el cumpleaños de Sofía. Ella cumple 6 años y le van a preparar una fiesta.

1. La mamá ha comprado caramelos, galletas, chupetines y chocolates para ponerlos en la mesa. **Marca con una (X) donde hay pocos.**




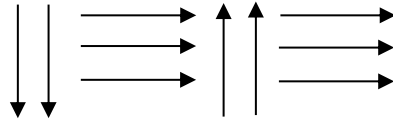
2. A la fiesta fueron sus amigos. ¿Cuántos niños están junto a la torta?



Marca la alternativa correcta:

- a) 5 niños
- b) 3 niños
- c) 2 niños

3. El payaso Pipo quiere llegar a la fiesta de Sofía. **Ayúdalo dibujando el recorrido con las fechas.**



4. Pipo tiene 5 globos. Sale a jugar y se le revientan 2 globos. **¿Cuántos globos le queda?**




Marca la alternativa correcta:

- a) 1 globo
- b) 2 globos
- c) 3 globos

Lorena y su familia visitan el zoológico, ella observa bastantes animales.

- 5.** Al salir del zoológico, a Lorena le regalan 5 figuritas de animales del zoológico. Su tío Pedro le regala 3 figuritas más. **¿Cuántas figuritas tiene ahora?**

Resuelve aquí:




Marca la alternativa correcta:


- a) 2 figuritas
- b) 6 figuritas
- c) 8 figuritas

6. Lorena ha dibujado los animales que observó en el zoológico.
Marca con **X** el grupo donde hay **MUCHOS** animales.

a)



b)



c)

