

Tercer grado

## ¿Tengo más ó tengo menos?



Mi nombre: \_\_\_\_\_



Capacidad: Resuelve problemas de adición y sustracción con números naturales de hasta cuatro cifras

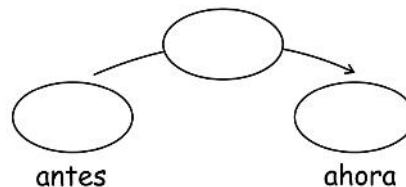
### 1. Rosita y sus pollitos

A Rosita le encantan los animales por ello tenía  pollitos a los que cuidaba con mucho cariño. Un día decidió visitar a su tía y esta le regaló  pollitos. Rosita quiere saber cuántos pollitos tiene ahora. Completa el enunciado y ayuda a Rosita a calcular dicha cantidad:



#### ❖ Comprendiendo el problema:

- ¿Cuántos pollitos tenía Rosita? \_\_\_\_\_
- ¿Cuántos pollitos le regaló su tía? \_\_\_\_\_
- Ahora, ¿tiene más o tiene menos? \_\_\_\_\_
- Completa el siguiente esquema a partir del enunciado:



- ¿Qué operación realizarías para hallar la respuesta?

Suma

Resta

## 2. Lucía y los Chocolates

Lucía tiene 8 chocolates y su hermano Pepe tiene 5 chocolates más que ella. ¿Cuántos chocolates tiene Pepe?

❖ **Comprendiendo el problema:**

¿Quién tiene más chocolates? \_\_\_\_\_

¿Cuántos más? \_\_\_\_\_

Marca una "x" por cada chocolate que tiene cada uno.

Lucía														
Pepe														

Respuesta: \_\_\_\_\_

## 3. Aníbal y los trompos

Aníbal tiene 12 trompos. Toribio tiene 5 trompos menos que Aníbal. ¿Cuántos trompos tienen entre los dos?

❖ **Comprendiendo el problema:**

¿Quién tiene más trompos? \_\_\_\_\_

¿Cuánto más? \_\_\_\_\_

Aníbal														
Toribio														

Respuesta: \_\_\_\_\_

## 4. Unos problemas sobre edades

A. Ramiro tiene 13 años y Mariela tiene 5 años menos que Ramiro. ¿Cuántos años tiene Mariela?

❖ **Comprendiendo el problema:**

¿Quién es mayor? \_\_\_\_\_

¿Por cuántos años? \_\_\_\_\_

Respuesta: \_\_\_\_\_

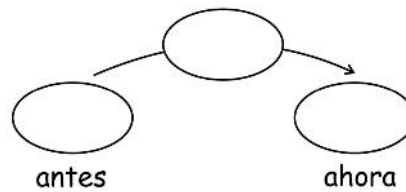
B. Cuando terminó la primaria Matías tenía 11 años. Han transcurrido algunos años y ahora acaba de cumplir 18 años. ¿Cuántos años han transcurrido?

❖ **Comprendiendo el problema:**

¿Cuántos años tenía cuando acabó la primaria? \_\_\_\_\_

¿Cuántos años tiene ahora? \_\_\_\_\_

- Completa el siguiente esquema a partir del enunciado:



- ¿Qué operación realizarías para hallar la respuesta?

Suma

Resta

Respuesta: \_\_\_\_\_

## 5. Practicando

- a) Pedro y Mateo tienen 53 caramelos en total. Pedro tiene 29 caramelos. ¿Cuántos tiene Mateo?

b) Rita y María tienen muchos hermanos. Rita tiene 12 hermanos y María tiene 3 hermanos menos. ¿Cuántos hermanos tienen entre ambas?

c) Alicia tejió 4 chompas más que Dora quien tejió 5 chompas. ¿Cuántas chompas tejió Alicia?

d) Ricardo tenía 12 soles y su papi le dio de propina algunos soles más. Si en total tiene 25 soles, ¿cuántos soles de propina le dio su papá?